



Pruebas de Acceso a las Universidades de Castilla y León

GEOGRAFÍA
Nuevo currículo

Texto para
los Alumnos
Nº páginas
2

Se presentan **DOS propuestas** de prueba con idéntica estructura (**Opción A y Opción B**).
El alumno deberá **escoger UNA** de ellas y **RESPONDER SÓLO A LA ELEGIDA**.

CRITERIOS GENERALES DE CORRECCIÓN DE LA PRUEBA

- I.- Tema:** Se valorará, sobre todo, la coherencia en la estructura y el que los contenidos no omitan aspectos fundamentales de la cuestión.
II.- Práctica: Lo correcto es leer e interpretar el material aportado y superar la mera descripción. Evite desarrollar un "tema paralelo".
III.- Definiciones: Se valorará, ante todo, la exactitud, claridad y concisión de las respuestas.
IV.- Localizaciones: Se exige que sea clara y precisa. No debe haber duda acerca de dónde se quiere situar el enunciado propuesto.
CORRECCIÓN FORMAL: Para valorarla se reserva hasta UN PUNTO (0'5 por presentación y 0'5 por ortografía y sintaxis)

OPCIÓN A

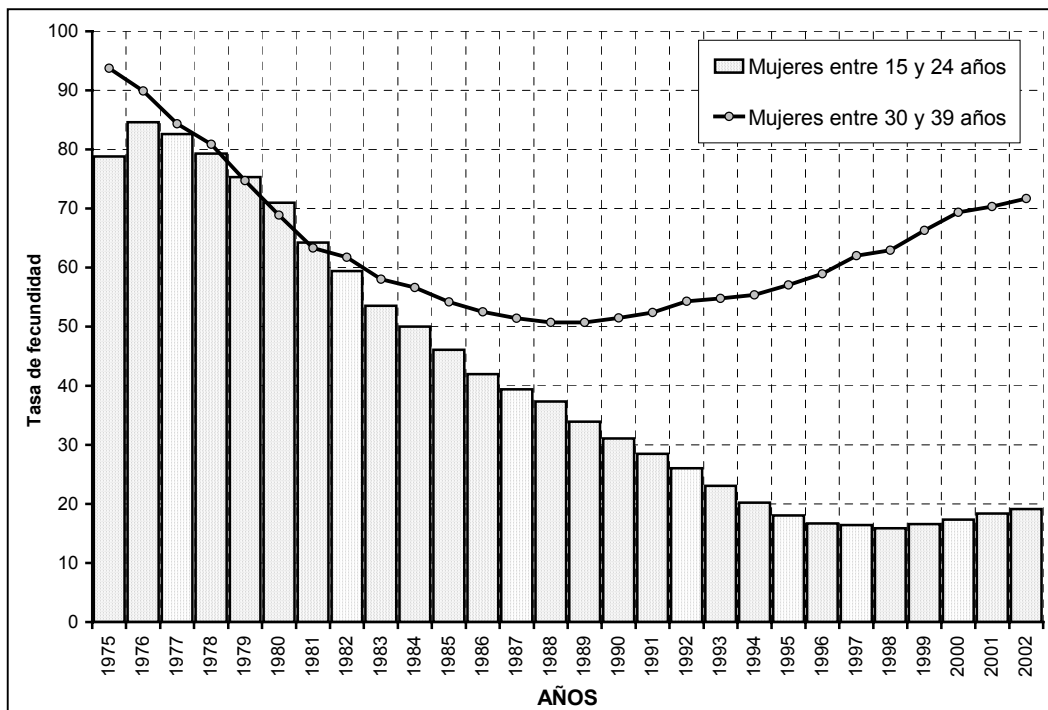
I.- Desarrolle el siguiente tema: «**UNIDADES DE RELIEVE DE LA PENÍNSULA IBÉRICA Y SU DINÁMICA. LOS RASGOS GEOMORFOLÓGICOS DE CASTILLA Y LEÓN**». (Hasta 3 puntos)

II.- Práctica:

A partir del análisis del gráfico y los datos demográficos relativos a **España**, realice el comentario de los hechos geográficos y su evolución. (Hasta 3 puntos)

A (tasa de fecundidad)
Mujeres entre 15 y 24 años
(gráfico: en barra)

B (tasa de fecundidad)
Mujeres entre 30 y 39 años
(gráfico: en línea)



Fuente:

INE (<http://www.ine.es>)

Años	1975	1976	1977	1978	1979	1980	1981	1982	1983	1984	1985	1986	1987	1988	1989	1990	1991	1992	1993	1994	1995	1996	1997	1998	1999	2000	2001	2002
A	79	85	83	79	75	71	64	59	54	50	46	42	39	37	34	31	28	26	23	20	18	17	16	16	17	17	18	19
B	94	90	84	81	75	69	63	62	58	57	54	53	51	51	51	52	52	54	55	55	57	59	62	63	66	69	70	72

III.- Defina con la mayor precisión posible ÚNICAMENTE **CINCO** de los siguientes términos: (Hasta 2 puntos)

- Macizo antiguo
- Cortijo
- Clima
- Tratado de Roma
- Reciclado
- F.E.D.E.R.
- Sotavento

IV.- En el mapa adjunto, **localice de forma inequívoca** y con la mayor precisión posible (mediante punto, línea o contorno, y con el número correspondiente) ÚNICAMENTE **OCHO** de los siguientes **elementos geográficos**: (Hasta 1 punto)

- 1) Jaén (provincia) 2) Serranía de Ronda 3) Condado de Treviño 4) Lanzarote 5) Huesca (ciudad)

OPCIÓN B

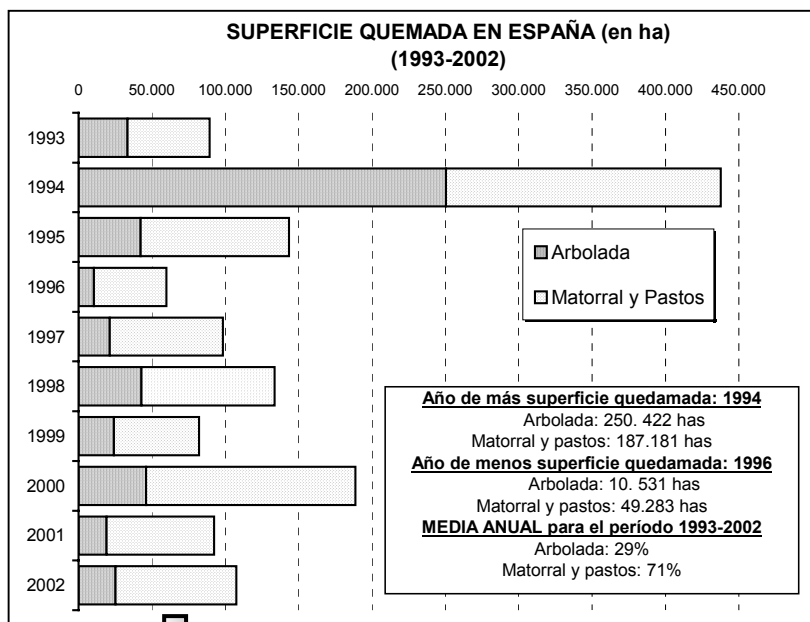
I.- Desarrolle el siguiente tema: «LAS MIGRACIONES INTERIORES Y EXTERIORES ESPAÑOLAS DESDE MEDIADOS DEL SIGLO XX. INCIDENCIA EN CASTILLA Y LEÓN» (Hasta 3 puntos)

II.- Práctica:

A partir del análisis de las tablas y gráficos relativos a los incendios forestales ocurridos en España (periodo 1993-2002) y, con mayor detalle, para el año 2002 (por CC.AA.), realice el comentario de este hecho geográfico. (Hasta 3 puntos)

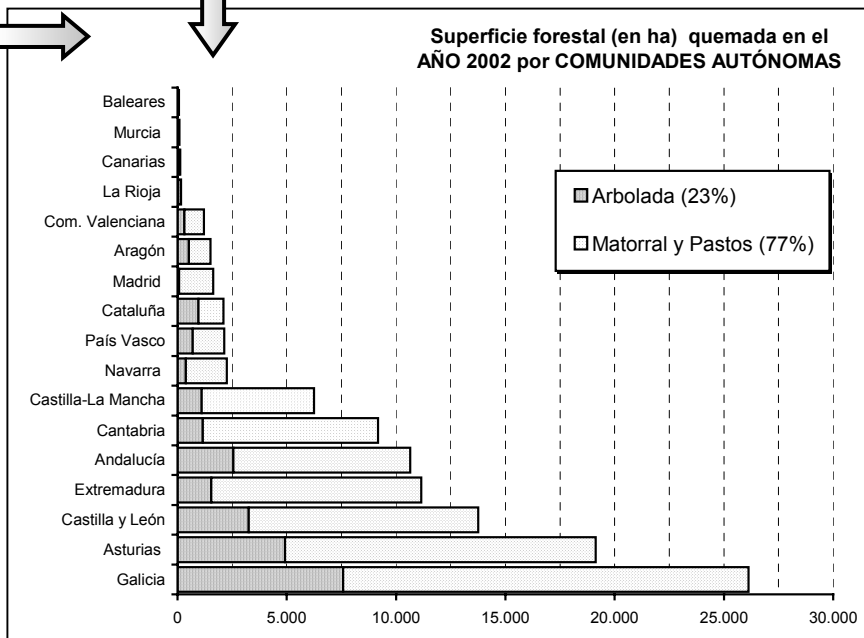
Año	Nº total INCENDIOS	GRANDES INCENDIOS
1993	14.253	26
1994	19.248	92
1995	25.828	26
1996	16.771	10
1997	22.319	7
1998	22.446	25
1999	18.237	16
2000	24.118	49
2001	19.099	16
2002	19.929	18
TOTAL	202.248	285
Media anual	20.225	29

“Gran incendio”: más de 500 ha. quemadas



COMUNIDADES (Año 2002)	Nº total incendios	Total ha. quemadas
Baleares	73	58
Murcia	166	90
Canarias	56	121
La Rioja	124	165
Com. Valenciana	321	1.202
Aragón	424	1.508
Madrid	314	1.630
Cataluña	545	2.100
País Vasco	242	2.134
Navarra	119	2.248
Castilla-La Mancha	946	6.242
Cantabria	428	9.174
Andalucía	1.181	10.641
Extremadura	1.129	11.154
Castilla y León	1.528	13.759
Asturias	1.560	19.123
Galicia	10.773	26.125
TOTAL	19.929	107.472

Fuente: INE (<http://www.ine.es>)



III.- Defina con la mayor precisión posible ÚNICAMENTE CINCO de los siguientes términos: (Hasta 2 puntos)

- Población de derecho
- Accesibilidad
- Comercio al por mayor
- Ganadería estabulada
- Energía nuclear
- I + D
- Aridez estival

IV.- En el mapa adjunto, localice de forma inequívoca y con la mayor precisión posible (mediante punto, línea o contorno, y con el número correspondiente) ÚNICAMENTE OCHO de los siguientes elementos geográficos: (Hasta 1 punto)

- 1) Teruel (ciudad)
- 2) Arribes del Duero
- 3) Cabo La Nao
- 4) Lugo (provincia)
- 5) El Hierro

6) Río Turia

7) Sierra Nevada (Parque Nacional)

8) San Sebastián

9) Ceuta

10) Gerona (ciudad)