



Pruebas de Acceso a las Universidades de Castilla y León

GEOGRAFÍA

Texto para los Alumnos

Nº páginas
2

Se presentan **DOS** propuestas de prueba con idéntica estructura (**Opción A** y **Opción B**).
El alumno deberá **escoger UNA** de ellas y **RESPONDER SÓLO A LA ELEGIDA**.

CRITERIOS GENERALES DE CORRECCIÓN DE LA PRUEBA

- I.- Tema:** Se valorará, sobre todo, la coherencia en la estructura y el que los contenidos no omitan aspectos fundamentales de la cuestión.
 - II.- Práctica:** Lo correcto es leer e interpretar el material aportado y superar la mera descripción. Evite desarrollar un "tema paralelo".
 - III.- Definiciones:** Se valorará, ante todo, la exactitud, claridad y concisión de las respuestas.
 - IV.- Localizaciones:** Se exige que sean claras y precisas. No debe haber duda acerca de dónde se quiere situar el enunciado propuesto.
- CORRECCIÓN FORMAL:** Para valorarla se reserva hasta UN PUNTO (0'5 por presentación y 0'5 por ortografía y sintaxis)

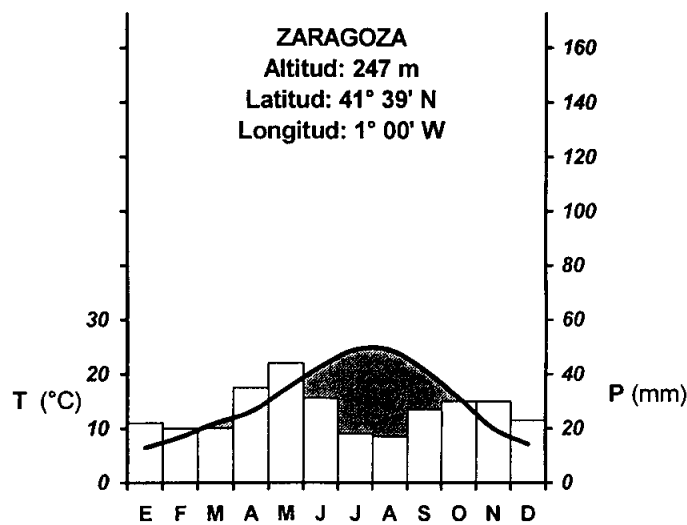
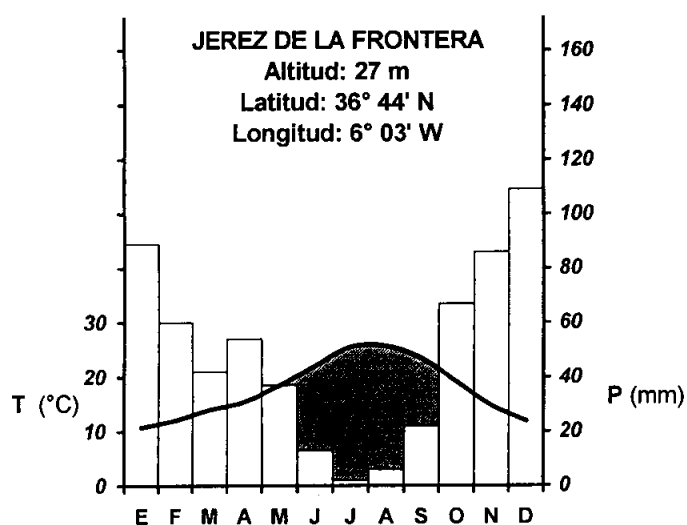
OPCIÓN A

I.- Desarrolle el siguiente tema:

«**CARACTERÍSTICAS Y PROBLEMAS DE LA ACTIVIDAD AGRARIA EN ESPAÑA. LA CONFORMACIÓN DE LAS ESTRUCTURAS AGRARIAS EN CASTILLA Y LEÓN**» (Hasta 3 puntos)

II.- Práctica:

A partir de la observación de estos gráficos y datos, realice el correspondiente comentario comparativo de las características climáticas. (Hasta 3 puntos)



JEREZ DE LA FRONTERA		ZARAGOZA
18	Temp. media mensual (°C) → <i>anual</i>	15
598	Precip. media mensual (mm) → <i>anual</i>	318
54	Nº medio al año de días de lluvia	50
4	Nº medio al año de días de helada	25
137	Nº medio al año de días despejados	80

Fuente: INM (<http://www.inm.es>)

III.- Defina con la mayor precisión posible **ÚNICAMENTE CINCO** de los siguientes términos: (Hasta 2 puntos)

- Agricultura extensiva
- Anticiclón.
- Censo
- Concentración parcelaria
- Acuífero
- Tiempo (atmosférico)
- Orogenia

IV.- En el mapa adjunto, **localice de forma inequívoca** y con la mayor precisión posible (mediante punto, línea o contorno, y con el número correspondiente) **ÚNICAMENTE DIEZ** de los siguientes **elementos geográficos**: (Hasta 1 punto)

- 1) Río Segura
- 2) Cordillera Penibética
- 3) Bilbao
- 4) Menorca
- 5) Guadalajara (provincia)
- 6) Los Monegros
- 7) Punta de Tarifa
- 8) Golfo de Almería
- 9) Pamplona
- 10) Río Guadiana
- 11) Pico Mulhacén
- 12) Caldera de Taburiente (Parque Nacional)

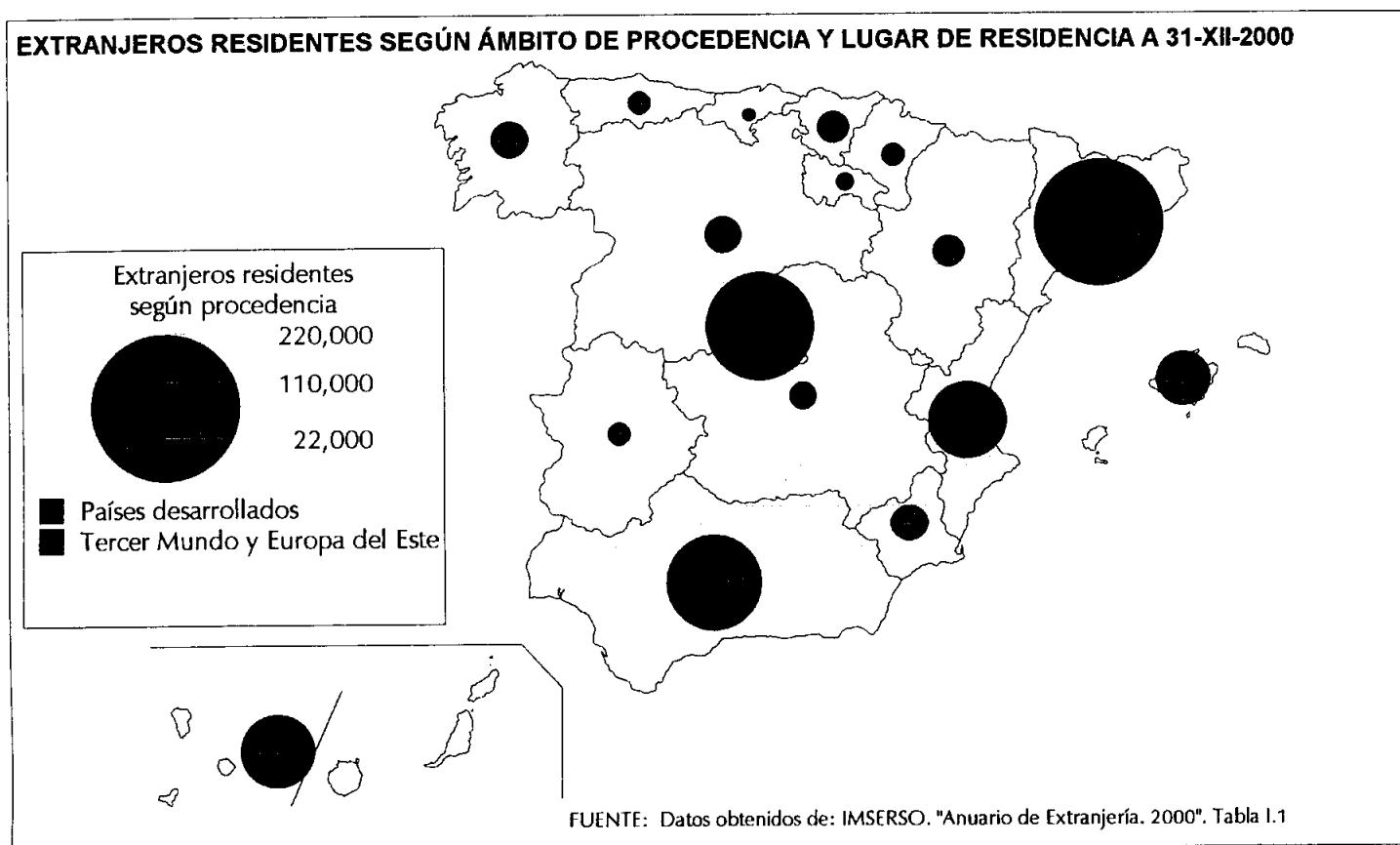
OPCIÓN B

I.- Desarrolle el siguiente tema:

«LA HIDROGRAFÍA Y LA PROBLEMÁTICA DE LOS RECURSOS HÍDRICOS EN ESPAÑA. EL AGUA EN CASTILLA Y LEÓN»
(Hasta 3 puntos)

II.- Práctica:

A partir de la lectura e interpretación del mapa adjunto, explicar los aspectos fundamentales en cuanto a la distribución de la población extranjera residente en España.
(Hasta 3 puntos)



III.- Defina con la mayor precisión posible ÚNICAMENTE CINCO de los siguientes términos: (Hasta 2 puntos)

- Barlovento
- Población ocupada
- C.B.D.
- Topografía
- Turismo cultural
- Comisión Europea
- Balance hídrico

IV.- En el mapa adjunto, localice de forma inequívoca y con la mayor precisión posible (mediante punto, línea o contorno, y con el número correspondiente) ÚNICAMENTE DIEZ de los siguientes elementos geográficos: (Hasta 1 punto)

- 1) Mérida
- 2) Delta del Ebro
- 3) Río Tajo
- 4) Castellón (provincia)
- 5) Gran Canaria
- 6) Río Nalón
- 7) Málaga (ciudad)
- 8) Moncayo (pico)
- 9) Sierra de Tramuntana
- 10) Sierra Nevada
- 11) Finisterre (cabo)
- 12) Tablas de Daimiel (Parque Nacional)